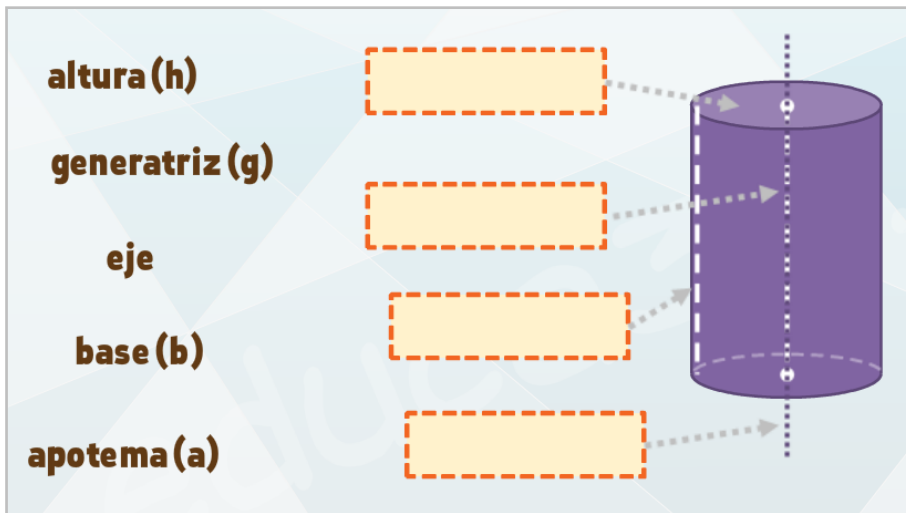


# Cilindro (áreas básico)

## FICHA 1. Elementos y desarrollo

### 1.1. Completa:



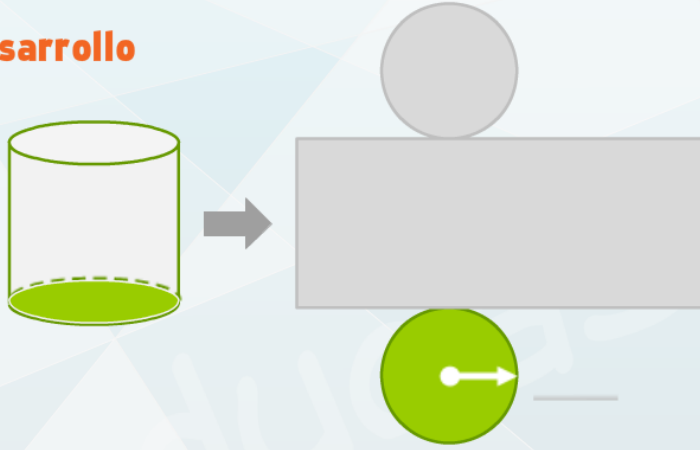
### 1.2. Marca el desarrollo correcto:



**FICHA 2. Área de la base**

**2.1. Completa:**

**1 Desarrollo**

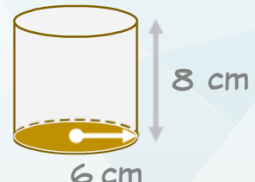


**2 Fórmula**

$A_B \rightarrow$

$A_B =$  \_\_\_\_\_

**2.2. Calcula el área de la base:**



**1 Fórmula**

**2 Cálculo**

**FICHA 3. Área lateral**

**3.1. Completa:**

**1 Desarrollo**

**2 Fórmula**      $A_L \rightarrow$

$A_L =$  \_\_\_\_\_

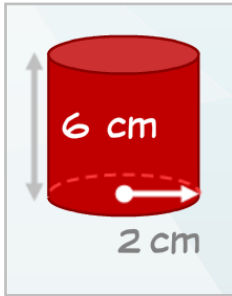
**3.2. Calcula el área lateral:**

**1 Fórmula**

**2 Cálculo**

**FICHA 4. Área total**

**4.1. Calcula el área total:**



**4.2. Calcula el área total**

