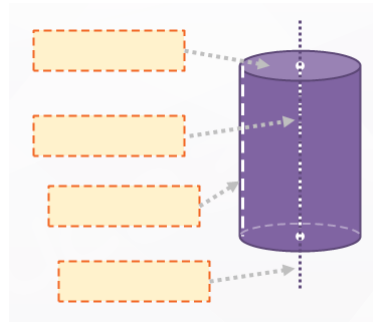


Cilindro (áreas básico)

Ficha 1. Elementos y desarrollo

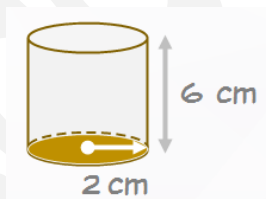
1.1 * Completa con los 4 elementos básicos de un cilindro:



1.2 * Dibuja el desarrollo de un cilindro de base 1 cm de radio y de 4 cm de altura.

Ficha 2. Área de la base

2.1 ** Calcula el área de la base del cilindro:

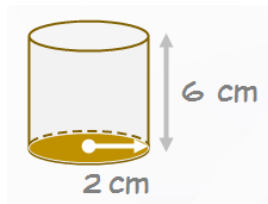


2.2 ** Calcula el área de la base de un cilindro que tiene de base un diámetro de 4 cm y de altura 7 cm.

Dibujo y datos:

Ficha 3. Área lateral

3.1 ** Calcula el área lateral del cilindro:



3.2 ** Calcula el área lateral de un cilindro que tiene de base un diámetro de 4 cm y de altura 7 cm.

Dibujo y datos:

Ficha 4. Área total

4.1 *** Calcula el área total de un cilindro que tiene de base un radio de 4,5 cm y de altura 9 cm.

Dibujo y datos:

4.2 *** Calcula el área total de un cilindro que tiene de base un diámetro de 8,5 cm y de altura 5 cm.

Dibujo y datos: