

Triángulos (básico)

Ficha 1. Conceptos básicos

1.1 * Dibuja un triángulo y nombra sus lados y vértices de forma adecuada.

1.2 ** Indica si es posible el triángulo si sus lados miden:

- a. 1, 4, 7
- b. 3, 6, 9
- c. 2, 5, 8

“Para poder construir un triángulo...

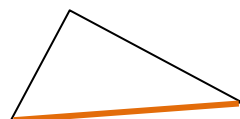
Ficha 2. Tipos de triángulos

2.1 * Dibuja un triángulo:

- a. Acutángulo y equilátero
- b. Rectángulo e isósceles
- c. Obtusángulo y escaleno

Ficha 3. Rectas notables

3.1 ** Dibuja sobre el lado marcado lo que se te indique:



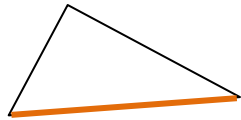
Altura

“La altura es la recta ...



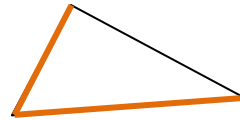
Mediana

“La mediana es la recta ...



Mediatriz

“La mediatriz es la recta ...

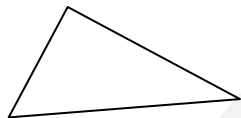


Bisectriz

“La bisectriz es la recta ...

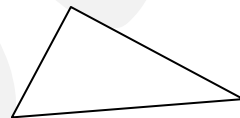
Ficha 4. Puntos notables

4.1 * Dibuja lo que se te indique:**



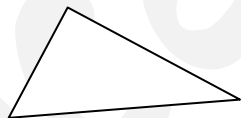
Baricentro

“El baricentro es el punto ...



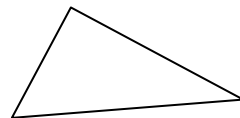
Circuncentro

“El circuncentro es el punto ...



Incentro

“El incentro es el punto ...



Ortocentro

“El ortocentro es el punto ...

4.2 * Dibuja en los apartados que correspondan del ejercicio 4.1: la circunferencia inscrita y la circunscrita.**