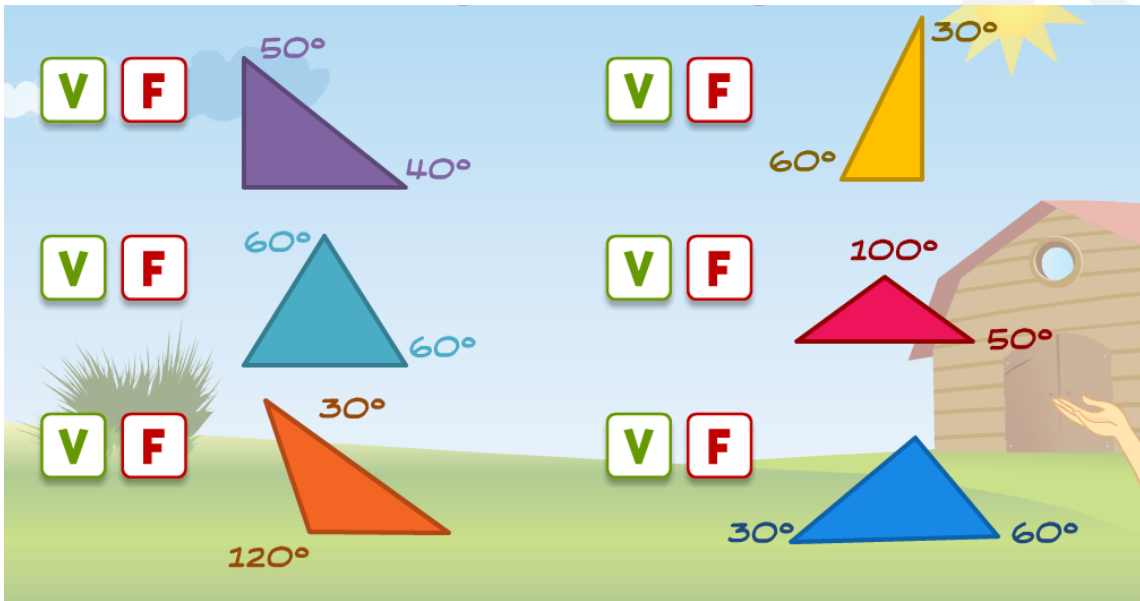


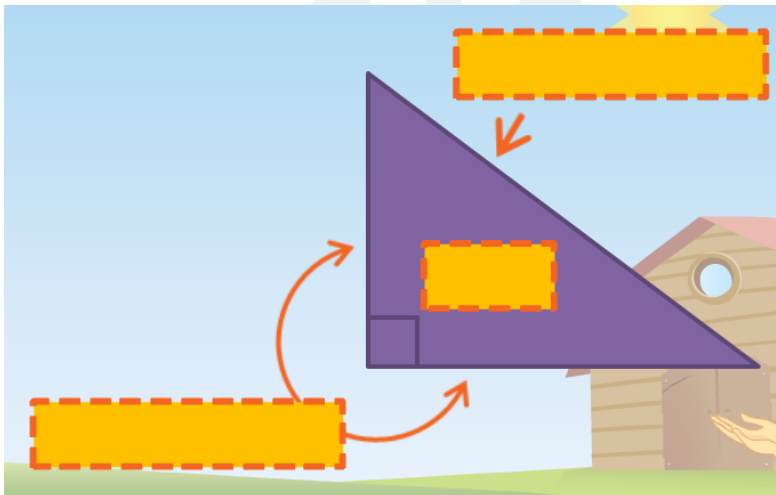
Tª Pitágoras (triángulos)

Ficha 1. Conceptos previos

1.1. Indica los triángulos rectángulos:



1.2. Completa:



Ficha 2. Teorema de Pitágoras

2.1. Completa:

Completa:

Teorema de Pitágoras (cálculo de la hipotenusa)



2.2. Completa:

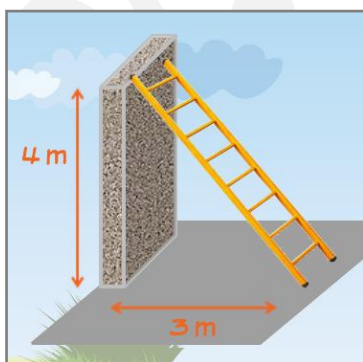
Completa:

Teorema de Pitágoras (cálculo de un cateto)

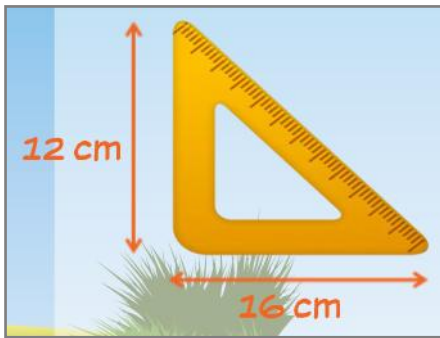


Ficha 3. Calculando la hipotenusa

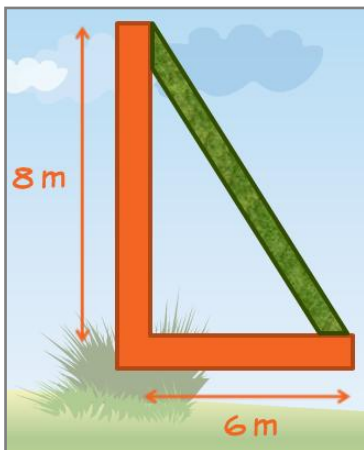
3.1. Calcula la longitud de la escalera:



3.2. ¿Cuánto mide la regla?



3.3. ¿Qué medirá el seto?

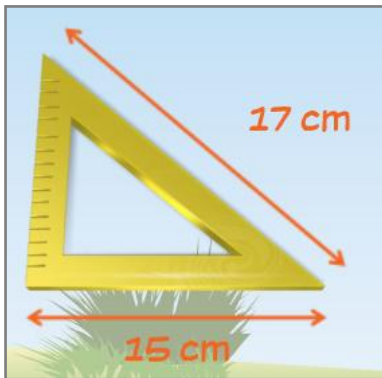


Ficha 4. Calculando un cateto

4.1. Calcula la altura del puente:



4.2. ¿Cuánto mide la regla?



4.3. ¿Qué altura alcanzaré con la escalera?

