

Círculo (básico)

FICHA 1. Figuras circulares

1.1. Indica verdadero/falso:


V F Segmento circular

V F Sector circular

V F Corona circular

V F Trapecio circular

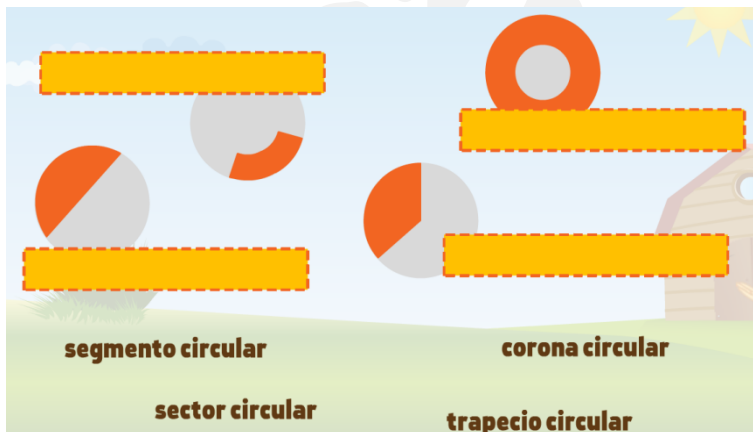
V F Semicírculo



1.2. Completa:

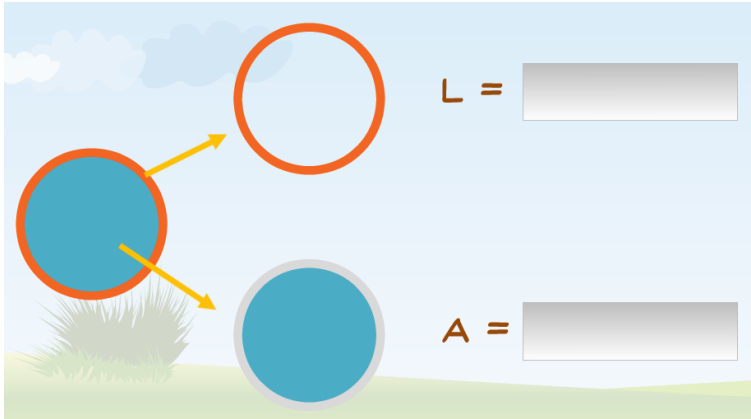
segmento circular **corona circular**

sector circular **trapecio circular**



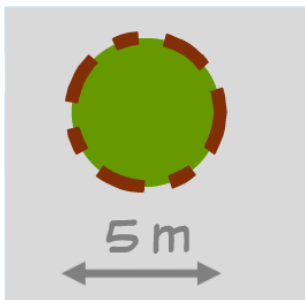
FICHA 2. Fórmula del área

2.1. Completa las fórmulas:



FICHA 3. Problemas de áreas

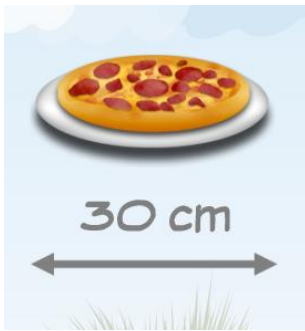
3.1. Calcula el área de la rotonda:



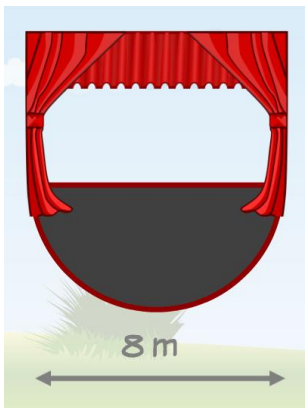
3.2. ¿Qué superficie ocupa este circo circular?



3.3. ¿Qué área (en m^2) ocupan 10 pizzas?



3.4. ¿Qué área (en m^2) ocupa el escenario?



3.5. ¿Qué área (en cm^2) ocupa el trozo de pastel?

